

PROVAS ANTERIORES DA



RACIOCÍNIO LÓGICO

Questão 01 - (PREFEITURA DE MOJU/PA)

Em um cofre encontram-se moedas de R\$0,25 e R\$0,50, totalizando R\$35,00. Retirando-se metade das moedas de R\$0,25, o cofre passa a ter R\$26,00. Quantas moedas de R\$0,50 há nesse cofre?

- A) 34 B) 36 C) 39 D) 32 E) 30

Questão 02- (PREFEITURA DE MOJU/PA)

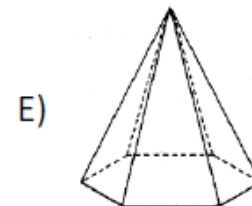
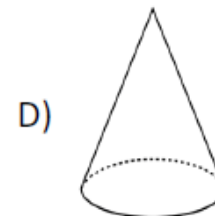
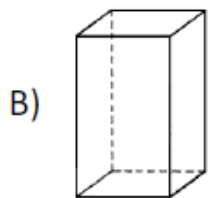
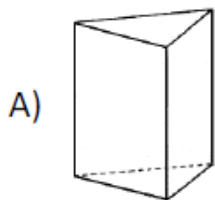
Qual dos números a seguir **NÃO** pertence ao grupo?

45654	35853	10501	63763	98289
-------	-------	-------	-------	-------

- A) 45654. B) 35853. C) 10501. D) 63763. E) 98289.

Questão 03 - (PREFEITURA DE MOJU/PA)

Qual das figuras a seguir **NÃO** pertence ao grupo?



Questão 04 - (PREFEITURA DE MOJU/PA)

A distância entre duas cidades foi percorrida em 3 horas com velocidade constante. Se a viagem teve início às 15 horas e 15 minutos e às 17 horas já havia sido percorrido 140 km, então a distância entre as duas cidades é de

- A) 220 km. B) 240 km. C) 260 km. D) 200 km. E) 280 km.

Questão 05 - (PREFEITURA DE LIBERDADE/MG)

Qual das palavras a seguir apresenta o maior número de anagramas?

- A) CAQUI. B) CEREJA. C) ABACAXI. D) BANANA.